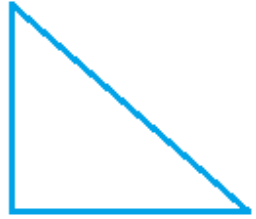

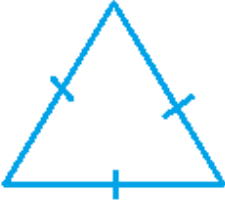
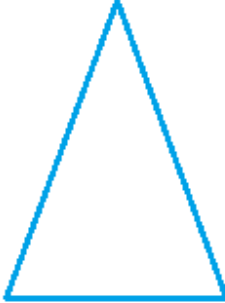
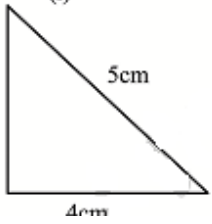
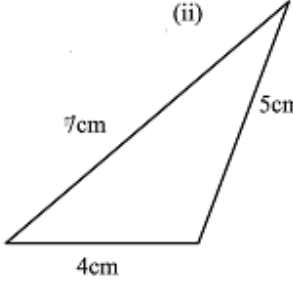
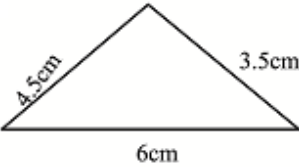
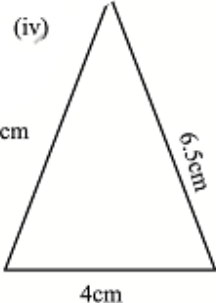
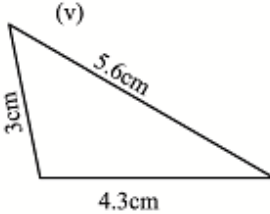
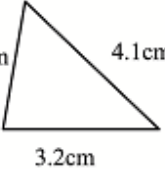
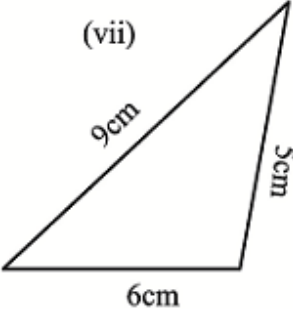
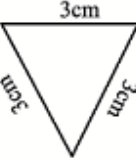




6.2.1. ಹೊಂದಿಸಿ ಬರೆಯಿರಿ.

(i)	(ii)	(iii)	(iv)
			
(A) ಸಮಬಾಹು ತ್ರಿಭುಜ	(B) ಲಘುಕೋನ ತ್ರಿಭುಜ	(C) ಲಂಬಕೋನ ತ್ರಿಭುಜ	(D) ವಿಶಾಲಕೋನ ತ್ರಿಭುಜ
ಉತ್ತರ : (i) → (C), (ii) → (D), (iii) → (A) (iv) → (B)			

A Project of www.eShale.com

6.2.2. ಬಾಹುಗಳನ್ನು ಅಧರಿಸಿ ತ್ರಿಭುಜಗಳನ್ನು ವರ್ಗೀಕರಿಸಿ(ಚಿತ್ರಗಳು ಅಳತೆಗನುಗುಣವಾಗಿಲ್ಲ)

<p>(i)</p> 	<p>(ii)</p> 	<p>(iii)</p> 	<p>(iv)</p> 	<p>(v)</p> 
ಅಸಮಬಾಹು ತ್ರಿಭುಜ	ಅಸಮಬಾಹು ತ್ರಿಭುಜ	ಅಸಮಬಾಹು ತ್ರಿಭುಜ	ಸಮದ್ವಿಬಾಹು ತ್ರಿಭುಜ	ಅಸಮಬಾಹು ತ್ರಿಭುಜ
<p>(vi)</p> 	<p>(vii)</p> 	<p>(viii)</p> 	<p>(ix)</p> 	<p>(x)</p> 
ಅಸಮಬಾಹು ತ್ರಿಭುಜ	ಅಸಮಬಾಹು ತ್ರಿಭುಜ	ಸಮಬಾಹು ತ್ರಿಭುಜ	ಸಮದ್ವಿಬಾಹು ತ್ರಿಭುಜ	ಸಮದ್ವಿಬಾಹು ತ್ರಿಭುಜ